
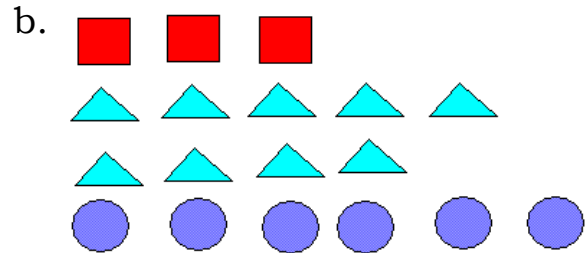
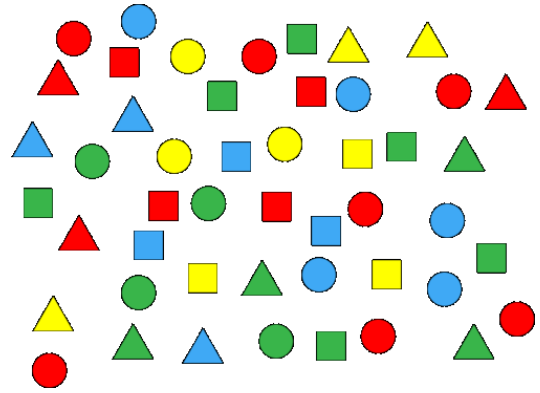


## Les rapports

1. Crée le plus de rapports que possible pour chaque groupe d'images.  
Indique s'il s'agit d'un rapport partie à partie ou d'un rapport partie à tout.



2. Regarde les formes à droite.  
Détermine ce qui représente  
les rapports ci-dessous en lien  
avec ces formes.



- a. 7 : 4 \_\_\_\_\_
- b. 3 : 6 \_\_\_\_\_
- c. 14 : 11 \_\_\_\_\_
- d. 13 : 19 \_\_\_\_\_
- e. 5 : 19 \_\_\_\_\_
- f. 3 : 4 \_\_\_\_\_

3. Utilise les mêmes formes que dans la question 2. Que serait le rapport pour chaque groupe d'objets?

- a. Cercles verts à cercles rouges \_\_\_\_\_
- b. Carrés bleus à tous les triangles \_\_\_\_\_
- c. Triangles à carrés \_\_\_\_\_
- d. Carrés rouges à carrés jaunes \_\_\_\_\_
- e. Triangles jaunes à formes jaunes \_\_\_\_\_
- f. Formes bleues à total de formes \_\_\_\_\_

4. Pour chaque rapport, fais un dessin d'objets qui pourrait représenter le rapport.

a. 2 : 8

b. 3 : 15

c. 5 : 4

d. 6 : 1